

Date :

---

---

---

---

Prénom :

---

---


---

---

---


**Les doubles des nombres jusqu'à 10**

**1) Complète avec les nombres et les billes.**



6

+



6

=

.....

Le double de **6** est .....



2

+




2

=

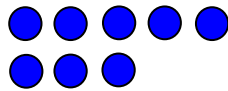
.....

Le double de **2** est .....



8

+



8

=

.....

Le double de **8** est .....

9

+

9

=

.....

Le double de ..... est .....

7

+

7

=

.....

Le double de ..... est .....

Date :

---

---

---

---

Prénom :

---

---

---

---

---

## ***Les doubles des nombres jusqu'à 10***

---

### **2) Complète les phrases.**

Le double de **2** est .....

Le double de **5** est .....

Le double de **7** est .....

Le double de **4** est .....

Le double de **9** est .....

Le double de **3** est .....

Le double de **1** est .....

Le double de **6** est .....

Le double de **8** est .....

### **3) Complète la table des doubles.**

$$1 + 1 = \dots\dots$$

$$2 + 2 = \dots\dots$$

$$3 + 3 = \dots\dots$$

$$4 + 4 = \dots\dots$$

$$5 + 5 = \dots\dots$$

$$6 + 6 = \dots\dots$$

$$7 + 7 = \dots\dots$$

$$8 + 8 = \dots\dots$$

$$9 + 9 = \dots\dots$$