

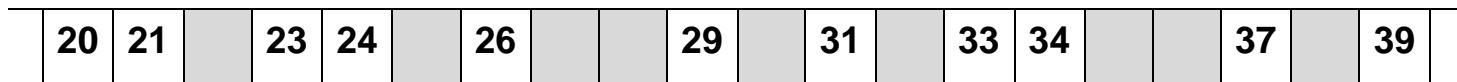


Prénom : _____

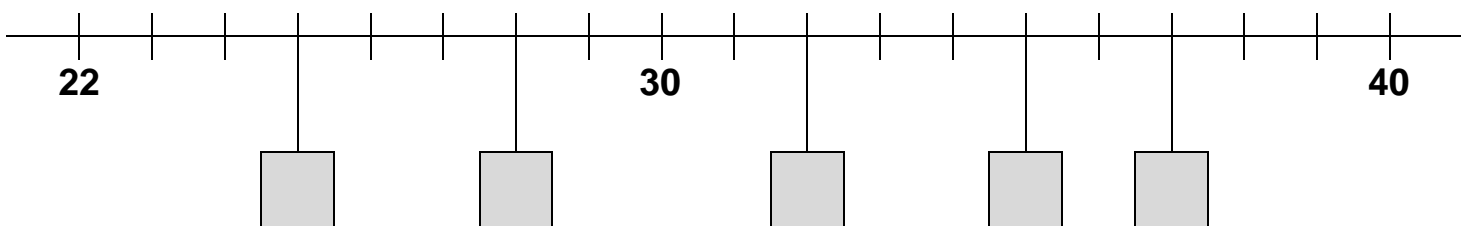
Date : _____

Les nombres de 20 à 39


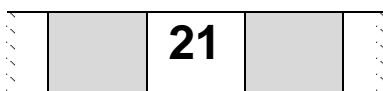
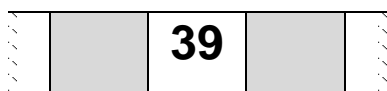
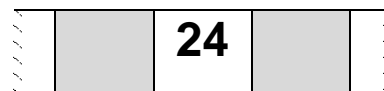
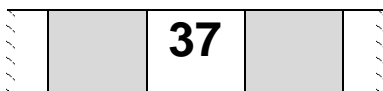
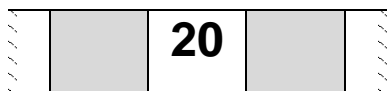
① Ecris les nombres manquants sur la file numérique.



② Ecris les nombres manquants sur l'axe des nombres.



③ Ecris le nombre précédent et le nombre suivant.



④ Complète avec <, >, =.

38 40 | 31 27 | 22 34

39 33 | 32 22 | 25 35

30 31 | 34 34 | 23 32

⑤ Ordonne les nombres suivants du plus petit au plus grand.

19 38 24 40

25 31 28 36

< < <

< < <