

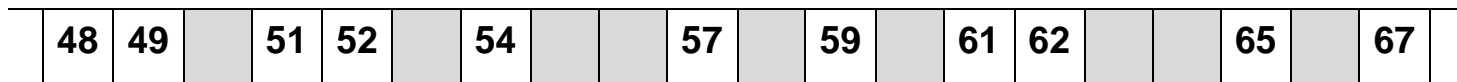


Prénom : _____

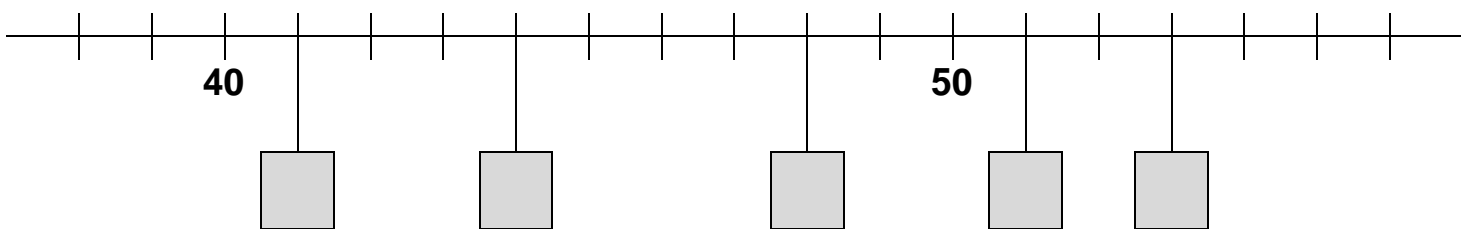
Date : _____

Les nombres de 20 à 69


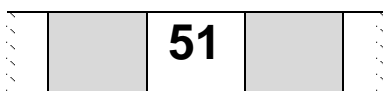

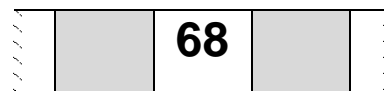
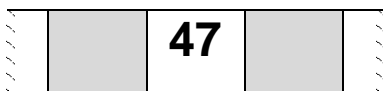
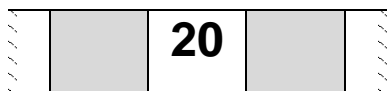
① Ecris les nombres manquants sur la file numérique.



② Ecris les nombres manquants sur l'axe des nombres.



③ Ecris le nombre précédent et le nombre suivant.



④ Complète avec <, >, =.

68 50 | 36 63 | 45 54

29 39 | 51 52 | 55 65

56 66 | 25 52 | 52 53

⑤ Ordonne les nombres suivants du plus petit au plus grand.

62 21 49 53

65 25 55 45

< < <

< < <

