






Prénom : _____

Date : _____


Les nombres de 40 à 59

1 Ecris le nombre de lapins.



	
dizaine	unité
.	.

Il y a lapins.



Il y a lapins.

2 Ecris le résultat.

$40 + 4 = \boxed{\quad \dots \quad}$

$50 + 9 = \boxed{\quad \dots \quad}$

$50 + 1 = \boxed{\quad \dots \quad}$

$40 + 3 = \boxed{\quad \dots \quad}$

$40 + 2 = \boxed{\quad \dots \quad}$

$50 + 8 = \boxed{\quad \dots \quad}$

$50 + 7 = \boxed{\quad \dots \quad}$

$40 + 4 = \boxed{\quad \dots \quad}$

$40 + 6 = \boxed{\quad \quad \quad}$

$50 + 7 = \boxed{\quad \quad \quad}$

$50 + 5 = \boxed{\quad \quad \quad}$

$40 + 8 = \boxed{\quad \quad \quad}$



Prénom :

Date :

Les nombres de 40 à 59

❶ Complète les calculs avec les dizaines et les unités.

$$\boxed{40} + \boxed{5} = \boxed{45}$$

$$\boxed{..} + \boxed{.} = \boxed{51}$$

$$\boxed{..} + \boxed{.} = \boxed{53}$$

$$\boxed{..} + \boxed{.} = \boxed{47}$$

$$\boxed{} + \boxed{} = \boxed{41}$$


$$\boxed{} + \boxed{} = \boxed{52}$$

$$\boxed{} + \boxed{} = \boxed{42}$$

$$\boxed{} + \boxed{} = \boxed{39}$$

❷ Observe et complète les suites de nombres.





Prénom : _____

Date : _____

Les nombres de 40 à 59



1	un
2	deux
3	trois
4	quatre
5	cinq

6	six
7	sept
8	huit
9	neuf

40 quarante

50 cinquante



41	quarante-et-un
42	quarante-deux

① Ecris le nombre en chiffres.

cinquante-et-un

cinquante-quatre

quarante-neuf

quarante-six

cinquante-huit

② Ecris le nombre en lettres en cursive.

41

45

57
