

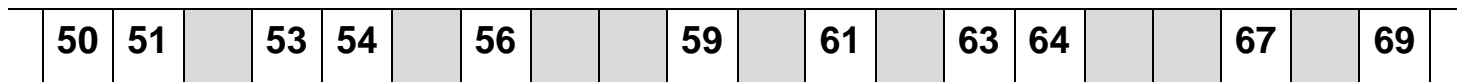


Prénom : _____

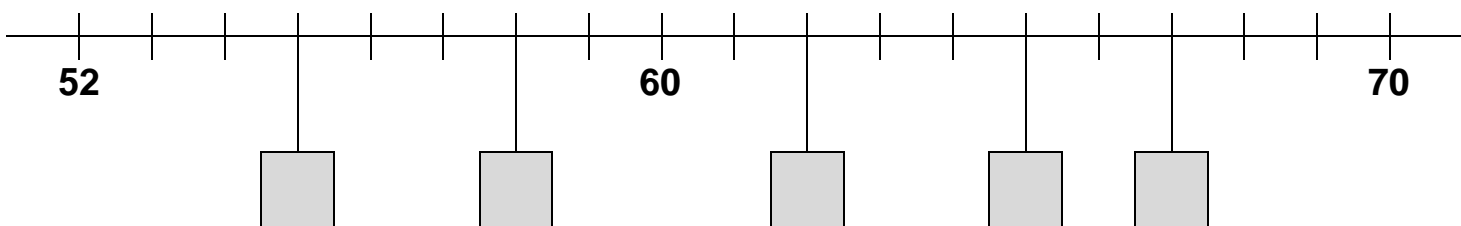
Date : _____

Les nombres de 60 à 69

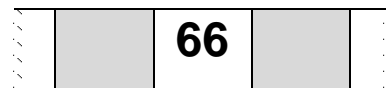

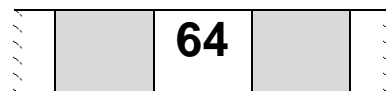


① Ecris les nombres manquants sur la file numérique.



② Ecris les nombres manquants sur l'axe des nombres.



③ Ecris le nombre précédent et le nombre suivant.



④ Complète avec <, >, =.

68 60 | 61 67 | 62 64

59 63 | 50 60 | 55 65

60 61 | 64 54 | 52 55

⑤ Ordonne les nombres suivants du plus petit au plus grand.

62 60 69 63

55 51 68 66

< < <

< < <