



Prénom :

Date :

Les nombres de 60 à 69

① Ecris le résultat.

$30 + 4 = \boxed{\dots}$

$60 + 1 = \boxed{\dots}$

$50 + 4 = \boxed{\dots}$

$50 + 9 = \boxed{\dots}$

$50 + 8 = \boxed{\dots}$

$50 + 5 = \boxed{\dots}$

② Complète avec <, >, =.

$30+4 \quad \boxed{} \quad 64 \quad | \quad 61 \quad \boxed{} \quad 60+1 \quad | \quad 62 \quad \boxed{} \quad 50+4$

$59 \quad \boxed{} \quad 50+9 \quad | \quad 50+8 \quad \boxed{} \quad 68 \quad | \quad 50+5 \quad \boxed{} \quad 65$

③ Observe et complète les suites de nombres.

$56 \text{ --- } 58 \text{ --- } 60 \text{ --- } \boxed{} \text{ --- } \boxed{} \text{ --- } \boxed{} \text{ --- } \boxed{}$


$49 \text{ --- } 51 \text{ --- } 53 \text{ --- } \boxed{} \text{ --- } \boxed{} \text{ --- } \boxed{} \text{ --- } \boxed{}$

$57 \text{ --- } 59 \text{ --- } 61 \text{ --- } \boxed{} \text{ --- } \boxed{} \text{ --- } \boxed{} \text{ --- } \boxed{}$



$68 \text{ --- } 66 \text{ --- } 64 \text{ --- } \boxed{} \text{ --- } \boxed{} \text{ --- } \boxed{} \text{ --- } \boxed{}$

$69 \text{ --- } 67 \text{ --- } 65 \text{ --- } \boxed{} \text{ --- } \boxed{} \text{ --- } \boxed{} \text{ --- } \boxed{}$



Prénom :

Date :

Les nombres de 60 à 69



1	un
2	deux
3	trois
4	quatre
5	cinq

6	six
7	sept
8	huit
9	neuf

60	soixante
----	----------

① Ecris le nombre en lettres en cursive.

62

65

67

② Ecris le nombre en chiffres.

soixante-et-un

..

soixante-quatre

..

soixante-neuf


..

soixante-six

..

soixante-huit

..








Prénom :

Date :


Les nombres de 60 à 69

Ecris le nombre de lapins.



	
dizaine	unité
	

Il y a lapins.



Il y a lapins.