

J'observe

Il y a 3 assiettes. Il y a 2 chaussons aux pommes par assiette.
Combien de chaussons y a-t-il en tout ?




$2 + 2 + 2 = \square$

3 groupes de 2 font \square .

Il y a \square chaussons aux pommes en tout.



Il y a 5 assiettes. Il y a 2 parts de tarte par assiette.
Combien de parts y a-t-il en tout ?



$2 + 2 + 2 + 2 + 2 = \square$

5 groupes de 2 font \square .


Il y a \square parts de tarte en tout.

1 a) Dessine d'autres groupes égaux qui font 6.

b) Dessine d'autres groupes égaux qui font 10.

2 Calcule. Utilise des  pour t'aider.

a)




$6 + 6 + 6 + 6 = \square$

4 groupes de 6 font \square .

Il y a \square crayons en tout.

b)

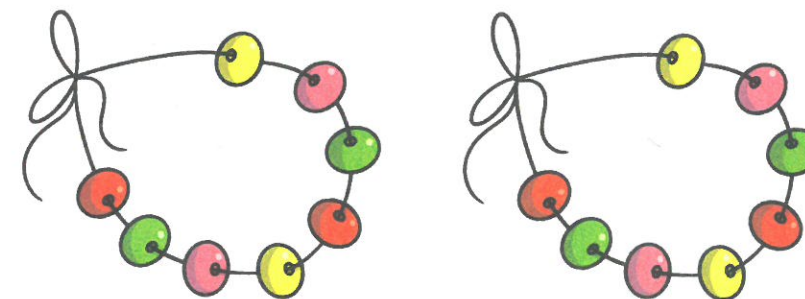


$7 + 7 + 7 = \square$

3 groupes de 7 font \square .

Il y a \square fleurs en tout.

c)



$8 + 8 = \square$

2 groupes de 8 font \square .

Il y a \square perles en tout.