

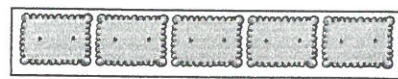

















Date :

Prénom :

# Groupes de 2 et 5

On a dessiné des paquets de 2 et de 5 gâteaux. **Complète** en écrivant le nombre de gâteaux en tout.

<b>A</b>  	<b>D</b>  
<b>B</b>   	<b>E</b>   
<b>C</b>    	<b>F</b>    

Réponds.

①



Dans quelle case y a-t-il  
3 paquets de 2 gâteaux ?  
Et 2 fois 5 gâteaux ?  
Et...



②



Combien y a-t-il de gâteaux en tout  
dans 3 paquets de 5 gâteaux ?  
Et dans 1 paquet de 2 gâteaux ?  
Et dans...

