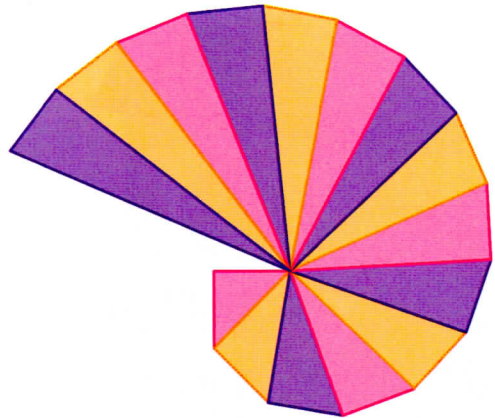


Reproduire et tracer un triangle rectangle

Cherchons

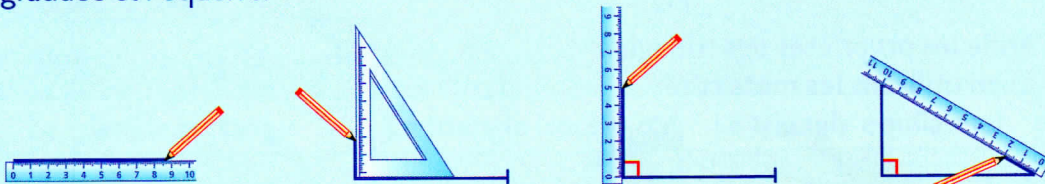
L'escargot de Pythagore est une construction géométrique formée de triangles rectangles.

- Quelle particularité doit-on prendre en compte pour tracer de tels triangles ?
- Décris les étapes du tracé d'un triangle rectangle.




Je retiens

- Comme pour les autres figures, pour **reproduire** ou **tracer un triangle rectangle sur du papier quadrillé ou pointé**, on repère la position des sommets, puis on trace les segments à la règle.
- Pour **reproduire** ou **tracer un triangle rectangle sur du papier uni**, on utilise la règle graduée et l'équerre.



Tracer et reproduire des triangles rectangles sur du papier quadrillé ou pointé

1 * Reproduis les triangles.



2 * Sur ton cahier, place les points comme sur le modèle, puis trace trois triangles rectangles.

