

Table de 6

Nom: _____

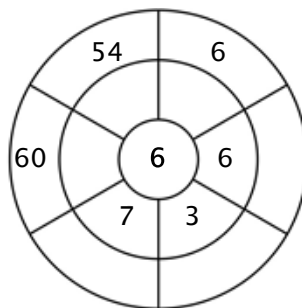
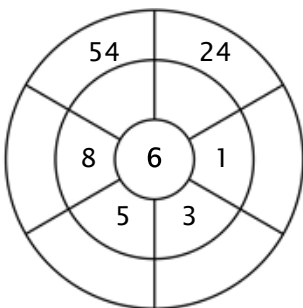
Exercice 1 :

Colorie toutes les boîtes qui sont la solution de cette table de multiplication.

23	21	9	1	42
24	12	19	22	30
44	18	6	54	5
30	24	55	12	60
42	65	37	5	18

Exercice 2 :

Complète le cercle en multipliant le chiffre au centre par l'anneau central pour obtenir les chiffres extérieurs.



Exercice 3 :

Entre le produit correct.

a) $6 \times 9 =$ _____

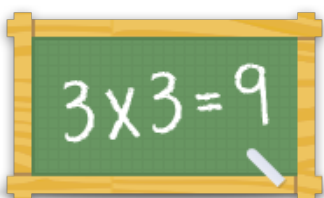
b) $6 \times 10 =$ _____

c) $6 \times 2 =$ _____

d) $6 \times 5 =$ _____

e) $6 \times 3 =$ _____

f) $6 \times 8 =$ _____



Pour plus de feuilles de calcul, jeux et exercices :

www.tablesdemultiplication.fr