



**5** \* Indique quel est le contenu du portemonnaie de Faustine.



**6** \* **PROBLÈME** À la fin de leur compétition de natation, les 150 jeunes nageurs ont droit à un badge souvenir. Y a-t-il assez de badges pour tout le monde ?



**7** \* **PROBLÈME** Une étude récente révélait que les Français mangeaient en moyenne 8 kg de bonbons par an et par personne. Cela représente environ 100 bonbons de poids moyen, par mois et par personne !


C'est comme si je mangeais 100 paquets de 10 bonbons par mois !



Ce serait plutôt comme si tu mangeais 10 paquets de 10 bonbons par mois ! C'est vraiment énorme !

Qui a raison ? Justifie ta réponse.

**8** \* **PROBLÈME** Le maraîcher a ramassé 182 pommes et les a toutes stockées dans des sacs pouvant contenir 10 pommes. Combien d'autres sacs sont cachés derrière les sacs ?



**9** \* Brendan a vendu des plateaux-repas payés en billets de 10 euros. Il a gagné 140 euros, qu'il a rangés dans une enveloppe. Dessine les billets de 10 euros qui se trouvent dans l'enveloppe.



Indique quels billets il devra utiliser pour cet achat.

### DÉFI MATHS

Trouve au moins trois façons différentes de dessiner 152 euros avec des billets de 100 euros, des billets de 10 euros et des pièces de 1 euro.